



www.riazi1000.ir

ریاضی هزار

سایت مرجع (کلیک کنید)

www.riazi1000.ir

سایت ششم (کلیک کنید)

www.riazisheshom.ir

کلیک کنید

[تقریب](#) [نسبت، تناسب](#) [اندازه گیری](#) [تقارن و مختصات](#) [اعداد اعشاری](#) [کسرها](#) [عددها و الگوها](#)

# تدریس خصوصی (تهران)

همه ی دروس - همه ی مناطق (از دبستان تا دانشگاه)

مرکز و شرق - شمال - غرب

۴۴۴۶۹۹۲۱

۲۲۸۶۹۰۳۸

۷۶۸۷۵۸۴۵

تماس با مشاور: خانم هاشمی

۰۹۱۰۶۰۱۱۴۰۰

اعزام مشاور جهت مشاوره و ثبت نام در منزل محل کار و یا در محل موسسه  
دریافت شهریه به صورت اقساطی طی دوره  
پیگیری مستمر و برگزاری آزمون های پیشرفت تحصیلی طی دوره آموزشی



برای عضویت در کانال تلگرام @riazi1000 کلیک کنید:

مشخصات دانش آموز:

بسمه تعالی

تیزهوشان و نمونه مردمی: کد ۷۳۱

دبستان:

برگه امتحانی فصل ۳

تاریخ امتحان: / /

۱- یک چندضلعی منتظم دارای  $20^\circ$  قطر می باشد. اندازهی هر کدام از زوایای این شکل هندسی چند درجه است؟  
تیزهوشان - استان های مختلف

(۴)  $140^\circ$  درجه

(۳)  $135^\circ$  درجه

(۲)  $130^\circ$  درجه

(۱)  $120^\circ$  درجه

۲- بر روی یک نیم خط تعداد  $10$  نقطه گذاشته ایم. چند پاره خط بر روی آن تشکیل می شود؟ سال ۹۲ - استان های مختلف

(۴)  $110$

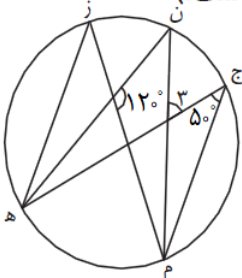
(۳)  $55$

(۲)  $90$

(۱)  $45$

۳- با توجه به شکل، اندازهی زاویهی «۳» در کدام گزینه آمده است؟ (م ن، نیمساز زاویهی «ج م ز» است.)

تیزهوشان - استان های مختلف



(۴)  $85^\circ$  درجه

(۳)  $70^\circ$  درجه

(۲)  $60^\circ$  درجه

(۱)  $80^\circ$  درجه

۴- ۰/۳۵ متر، ۰/۴ سانتی متر و  $\frac{۴}{۵}$  دسی متر روی هم چند میلی متر است؟ تیزهوشان - استان های مختلف

۳۸۵ (۴)

۳۴/۴ (۳)

۴۳۴ (۲)

۳۹۴ (۱)

۵- متمم زاویه ی الف با  $\frac{۲}{۵}$  مکمل زاویه ی ب مساوی است. اگر  $۱۰۰^\circ = \text{ب}$  باشد، زاویه ی الف چند درجه است؟

تیزهوشان - استان های مختلف

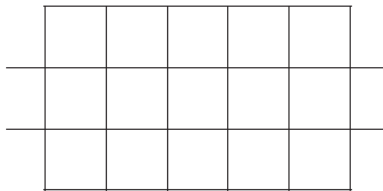
۱۰ (۴)

۸۰ (۳)

۳۲ (۲)

۵۸ (۱)

۶- در شکل روبه رو، به ترتیب چند پاره خط و نیم خط دیده می شود؟ تیزهوشان - استان های مختلف



۲۴ و ۹۶ (۱)

۲۴ و ۱۰۰ (۲)

۱۲ و ۱۰۵ (۳)

۱۲ و ۱۱۰ (۴)

۷- سه خط در یک نقطه متقاطع اند. در شکل زیر دو زاویه مشخص شده اند. اندازه ی زاویه ای که با علامت سؤال مشخص شده، چند درجه است؟ تیزهوشان - استان های مختلف



۵۲ درجه (۱)

۵۳ درجه (۲)

۵۴ درجه (۳)

۵۶ درجه (۴)

۸- در یک ساعت، عقربه‌ی دقیقه‌شمار ۲۷۰ درجه حرکت کرده است. عقربه‌ی ساعت‌شمار چند درجه حرکت کرده است؟

تیزهوشان - استان های مختلف

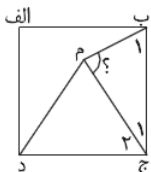
۱۵ (۴)

۲۲/۵ (۳)

۱۷/۵ (۲)

۱۰ (۱)

۹- در مربع روبه‌رو، مثلث (ج م د) متساوی‌الاضلاع می‌باشد. زاویه‌ی (ب م ج) چند درجه می‌باشد؟ تیزهوشان - استان های مختلف



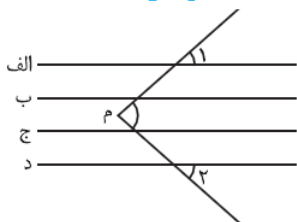
۷۵ (۱)

۵۰ (۲)

۶۵ (۳)

۸۰ (۴)

۱۰- در شکل زیر اگر چهار خط (الف و ب و ج و د) موازی باشند، کدام عبارت صحیح است؟ تیزهوشان - استان های مختلف



(۱) زاویه‌ی (م) با مجموع دو زاویه‌ی ۱ و ۲ برابر است.

(۲) زاویه‌ی (م) از مجموع زاویه‌ی ۱ و ۲ کمتر است.

(۳) زاویه‌ی (م) از مجموع زاویه‌ی ۱ و ۲ بیشتر است.

(۴) زاویه‌ی (م) دو برابر مجموع زاویه‌ی ۱ و ۲ است.

به منظور خرید پاسخنامه تشریحی آزمون کد ۷۳۱ کلیک کنید

خرید آنلاین

دریافت فایل‌ها بلافاصله پس از پرداخت وجه

[www.riazisheshom.ir](http://www.riazisheshom.ir)

دانلود شده از سایت تخصصی ریاضی ششم



www.riazi1000.ir

ریاضی هزار

سایت مرجع (کلیک کنید)

www.riazi1000.ir

سایت ششم (کلیک کنید)

www.riazisheshom.ir

کلیک کنید

[تقریب](#) [نسبت، تناسب](#) [اندازه گیری](#) [تقارن و مختصات](#) [اعداد اعشاری](#) [کسرها](#) [عددها و الگوها](#)

# تدریس خصوصی (تهران)

همه ی دروس - همه ی مناطق (از دبستان تا دانشگاه)

مرکز و شرق - شمال - غرب

۴۴۴۶۹۹۲۱

۲۲۸۶۹۰۳۸

۷۶۸۷۵۸۴۵

تماس با مشاور: خانم هاشمی

۰۹۱۰۶۰۱۱۴۰۰

اعزام مشاور جهت مشاوره و ثبت نام در منزل محل کار و یا در محل موسسه  
دریافت شهریه به صورت اقساطی طی دوره  
پیگیری مستمر و برگزاری آزمون های پیشرفت تحصیلی طی دوره آموزشی



برای عضویت در کانال تلگرام @riazi1000 کلیک کنید: